

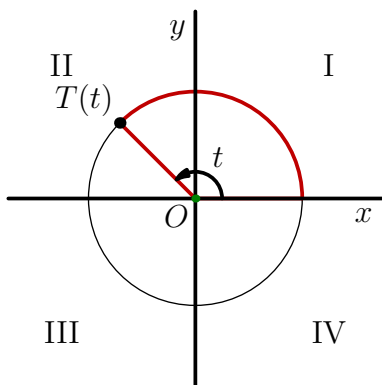
Trigonometrijske funkcije

September 5, 2008

1 Brojeva kružnica

1.1 Mjerenje kuteva

- pretpostavimo da se po kružnici jediničnog radijusa pomaknemo za kut t u smjeru suprotnom od kazaljke na satu



Slika 1: Definicija kuta pomoću jedinične kružnice

- kut t u radijanima po definiciji je jednak duljini prijeđenog luka
- ravninu dijelimo na četiri kvadranta
 - prvi kvadrant: $0 \leq x \leq \pi/2$
 - drugi kvadrant: $\pi/2 \leq x \leq \pi$
 - treći kvadrant: $\pi \leq x \leq 3\pi/2$
 - četvrti kvadrant: $3\pi/2 \leq x \leq 2\pi$

- ako obiđemo cijelu kružnicu, duljina prijeđenog luka iznosi 2π (opseg jedinične kružnice)
- stoga je kut $t + 2k\pi$, $k \in \mathbb{Z}$ ekvivalentan kutu t tj. točke $T(t)$ i $T(t + 2k\pi)$ se poklapaju
- osim u radijanima, kuteve možemo mjeriti i u stupnjevima
- u tom slučaju krug dijelimo na 360 jednakih dijelova
- svaki dio odgovara kutu od 1°
- puni krug odgovara kutu od 360°
- kut izražen u radijanima pretvaramo u stupnjeve po formuli

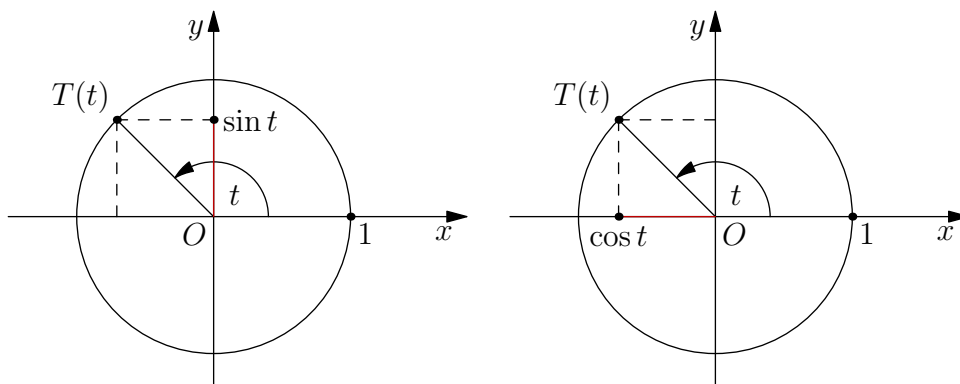
$$t \text{ (stupnjevi)} = \frac{360}{2\pi} \cdot t \text{ (radijani)} \quad (1)$$

$t \text{ (rad)}$	0	$\pi/6$	$\pi/4$	$\pi/3$	$\pi/2$	π	$3\pi/2$	2π
$t \text{ (}^\circ\text{)}$	0	30°	45°	60°	90°	180°	270°	360°

2 Funkcije sinus i kosinus

2.1 Definicija i osnovna svojstva

- funkcije sinus i kosinus definiramo na brojevnoj kružnici
- funkcija sinus je ordinata, a funkcija kosinus apscisa točke $T(t)$ na brojevnoj kružnici



Slika 2: Definicije funkcija sinus i kosinus na brojevnoj kružnici

- apsolutna vrijednost obje funkcije mora biti manja od radijusa jedinične kružnice pa dolazimo do prvog važnog svojstva funkcija sinus i kosinus

$$-1 \leq \sin x \leq 1 \quad \text{i} \quad -1 \leq \cos x \leq 1 \quad (2)$$

- koordinate točke $T(t)$: $(T_x, T_y) = (\cos t, \sin t)$
- točka $T(t) \equiv (\cos t, \sin t)$ pripada jediničnoj kružnici samo ako vrijedi (Pitagorin poučak)

$$T_x^2 + T_y^2 = 1 \quad (3)$$

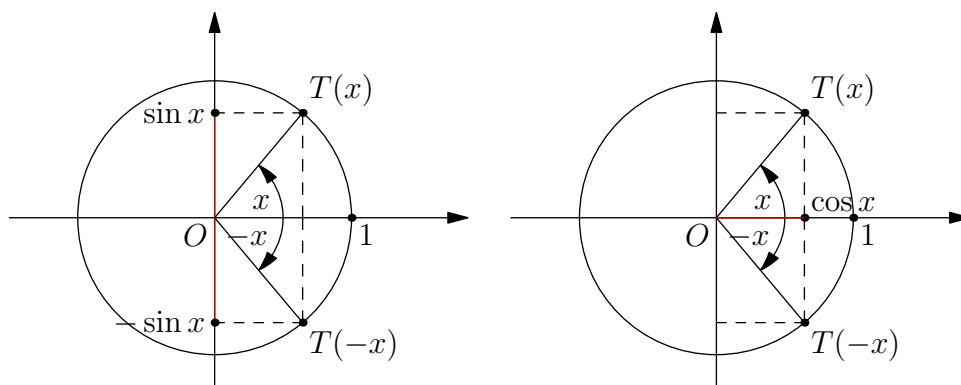
- drugo važno svojstvo funkcija sinus i kosinus

$$\sin^2 t + \cos^2 t = 1 \quad (4)$$

- točki $T(t)$ na brojevnoj kružnici pridruženi su svi realni brojevi $t + 2k\pi$, gdje je k cijeli broj
- sve točke $T(t + 2k\pi)$, $k \in \mathbb{Z}$ se poklapaju pa vrijedi

$$\begin{aligned} \cos(t + 2k\pi) &= \cos t \\ \sin(t + 2k\pi) &= \sin t \end{aligned}, \quad k \in \mathbb{Z} \quad (5)$$

- funkcije sinus i kosinus su periodične s periodom 2π
- prema konvenciji, kut t je pozitivan ako brojevnu kružnicu obilazimo u smjeru suprotnom od kazaljke na satu i negativan ako brojevnu kružnicu obilazimo u smjeru kazaljke na satu



Slika 3: Parnost funkcija sinus i kosinus

- sa slike vidimo da vrijedi

$$\sin(-t) = -\sin t \quad \text{i} \quad \cos(-t) = \cos t \quad (6)$$

- funkcija sinus je neparna, dok je funkcija kosinus parna
- funkcija sinus iščezava u točkama

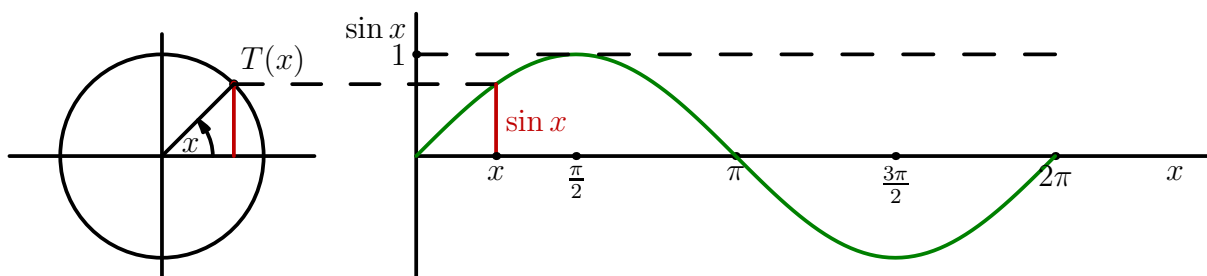
$$x = k\pi, \quad k \in Z \quad (7)$$

- funkcija kosinus iščezava u točkama

$$x = \left(k + \frac{1}{2}\right)\pi, \quad k \in Z \quad (8)$$

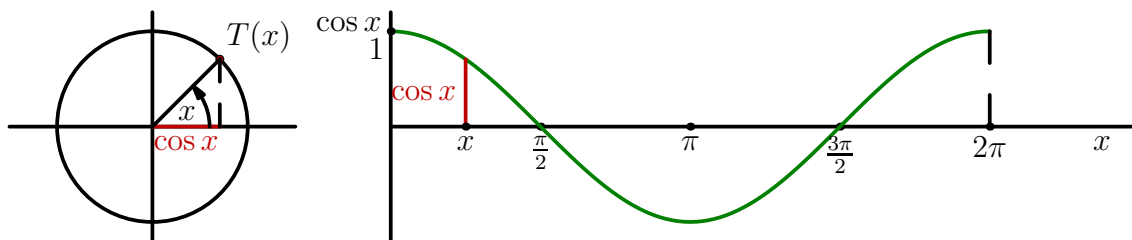
2.2 Grafički prikaz funkcija sinus i kosinus

- graf funkcije sinus konstruiramo pomoću brojevne kružnice
- na os x nanesimo kut u radijanima, dok na os y prenesemo ordinatu točke $T(x)$
- postupak ponavljamo dok ne obiđemo cijelu kružnicu



Slika 4: Konstrukcija grafa funkcije sinus

- period funkcije sinus iznosi 2π pa je dovoljno konstruirati graf na intervalu $[0, 2\pi]$
- na sličan način konstruiramo graf funkcije kosinus
- na os x nanesimo kut u radijanima, dok na os y prenesemo apscisu točke $T(x)$



Slika 5: Konstrukcija grafa funkcije kosinus

- neke karakteristične vrijednosti funkcija sinus i kosinus

ϕ	0	$\pi/6$	$\pi/4$	$\pi/3$	$\pi/2$	π	$3\pi/2$	2π
$\sin \phi$	0	$1/2$	$\sqrt{2}/2$	$\sqrt{3}/2$	1	0	-1	0
$\cos \phi$	1	$\sqrt{3}/2$	$\sqrt{2}/2$	$1/2$	0	-1	0	1

Tablica 1: Karakteristične vrijednosti funkcija sinus i kosinus

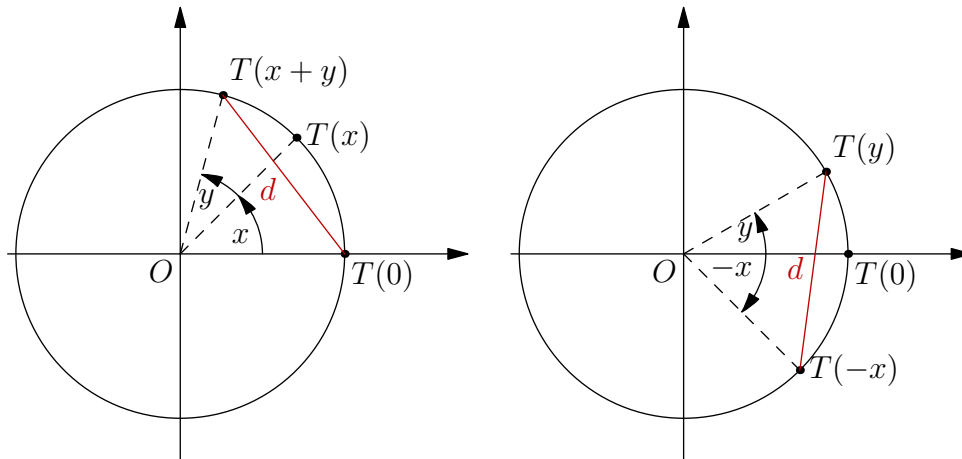
2.3 Adicione formule

- u primjenama trigonometrije često moramo izračunati vrijednost trigonometrijske funkcije za zbroj ili razliku dva kuta
- tada koristimo adicione formule

$$\cos(x + y) = \cos x \cos y - \sin x \sin y \quad (9)$$

$$\sin(x + y) = \sin x \cos y + \cos x \sin y \quad (10)$$

- formulu (9) možemo izvesti promatrajući slike



Slika 6: Izvod adicijskih formula

- na lijevoj slici smo označili tri točke:

- $T(x + y) = (\cos(x + y), \sin(x + y))$
- $T(x) = (\cos(x), \sin(x))$
- $T(0) = (1, 0)$

- udaljenost između točaka $T(x + y)$ i $T(0)$ iznosi

$$\begin{aligned} d^2 &= (\cos(x + y) - 1)^2 + (\sin(x + y) - 0)^2 \\ &= \cos^2(x + y) - 2\cos(x + y) + 1 + \sin^2(x + y) \\ &= \cos^2(x + y) + \sin^2(x + y) + 1 - 2\cos(x + y) \end{aligned}$$

- iskoristimo relaciju $\cos^2(x + y) + \sin^2(x + y) = 1$

$$d^2 = 2 - 2\cos(x + y) \quad (11)$$

- sada zarotiramo sve tri točke za kut x u smjeru kazaljke na satu (desna slika)

- udaljenost d između točaka $T(y)$ i $T(-x)$ ostaje nepromijenjena

$$\begin{aligned} d^2 &= (\cos y - \cos(-x))^2 + (\sin y - \sin(-x))^2 \\ &= (\cos y - \cos x)^2 + (\sin y + \sin x)^2 \\ &= \cos^2 y - 2\cos y \cos x + \cos^2 x + \sin^2 y + 2\sin y \sin x + \sin^2 x \\ &= \cos^2 y + \sin^2 y + \cos^2 x + \sin^2 x + 2\sin x \sin y - 2\cos x \cos y \\ &= 2 + 2(\sin x \sin y - \cos x \cos y) \end{aligned} \quad (12)$$

- usporedbom izraza (11) i (12) dolazimo do zaključka

$$2 - 2 \cos(x + y) = 2 + 2(\sin x \sin y - \cos x \cos y) \quad (13)$$

- adicione formula za funkciju kosinus

$$\implies \cos(x + y) = \cos x \cos y - \sin x \sin y \quad (14)$$

- odmah možemo izvesti formulu za kosinus razlike kuteva

$$\begin{aligned} \cos(x - y) &= \cos(x + (-y)) \\ &= \cos x \cos(-y) - \sin x \sin(-y) \\ &= \cos x \cos y + \sin x \sin y \end{aligned} \quad (15)$$

- primjenom adicione formule na slučaj $x = \pi/2$ možemo doći do veze između funkcija sinus i kosinus

$$\cos\left(\frac{\pi}{2} - y\right) = \cos \frac{\pi}{2} \cos y + \sin \frac{\pi}{2} \sin y \quad (16)$$

- iskoristimo poznate vrijednosti funkcija sinus i kosinus

$$\cos \frac{\pi}{2} = 0 \quad \text{i} \quad \sin \frac{\pi}{2} = 1 \quad (17)$$

$$\implies \sin y = \cos\left(\frac{\pi}{2} - y\right) \quad (18)$$

- ako napravimo supstituciju $x = \pi/2 - y$ dolazimo do formule

$$\sin\left(\frac{\pi}{2} - x\right) = \cos x \quad (19)$$

- došli smo do veze između funkcija sinus i kosinus

$$\cos x = \sin\left(\frac{\pi}{2} - x\right) \quad \text{i} \quad \sin x = \cos\left(\frac{\pi}{2} - x\right) \quad (20)$$

- sada možemo izvesti i adicione formule za funkciju sinus

- sinus razlike kuteva

$$\begin{aligned} \sin(x - y) &= \cos\left[\frac{\pi}{2} - (x - y)\right] \\ &= \cos\left[\left(\frac{\pi}{2} - x\right) + y\right] \\ &= \cos\left(\frac{\pi}{2} - x\right) \cos y - \sin\left(\frac{\pi}{2} - x\right) \sin y \\ &= \sin x \cos y - \cos x \sin y \end{aligned} \quad (21)$$

- sinus zbroja kuteva

$$\begin{aligned}\sin(x+y) &= \sin[x - (-y)] \\ &= \sin x \cos y - \cos x \sin(-y) \\ &= \sin x \cos y + \cos x \sin y\end{aligned}\tag{22}$$

- iz adicijih formula možemo izvesti i formule za zbroj i razliku funkcija sinus i kosinus
- polazimo od adicijih formula

$$\cos(x+y) = \cos x \cos y - \sin x \sin y\tag{23}$$

$$\cos(x-y) = \cos x \cos y + \sin x \sin y\tag{24}$$

$$\sin(x+y) = \sin x \cos y + \cos x \sin y\tag{25}$$

$$\sin(x-y) = \sin x \cos y - \cos x \sin y\tag{26}$$

- zbrojimo formule (23) i (24)

$$2 \cos x \cos y = \cos(x+y) + \cos(x-y)\tag{27}$$

- napravimo supstitucije

$$x+y = u \quad \text{i} \quad x-y = v \implies x = \frac{u+v}{2} \quad \text{i} \quad y = \frac{u-v}{2}\tag{28}$$

- slijedi formula za zbroj dva kosinusa

$$\cos u + \cos v = 2 \cos \frac{u+v}{2} \cos \frac{u-v}{2}\tag{29}$$

- zbrojimo formule (25) i (26)

$$2 \sin x \cos y = \sin(x+y) + \sin(x-y)\tag{30}$$

- napravimo supstitucije (28)

- slijedi formula za zbroj dva sinusa

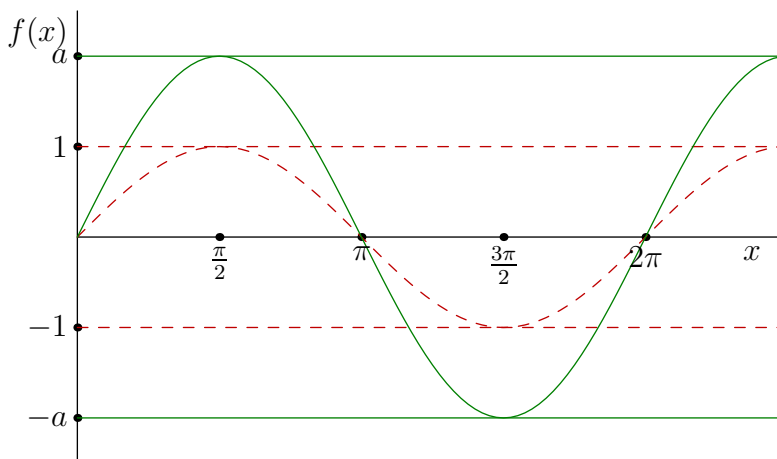
$$\sin u + \sin v = 2 \sin \frac{u+v}{2} \cos \frac{u-v}{2}\tag{31}$$

-

2.4 Općeniti oblik funkcije sinus

Funkcija oblika: $f(x) = a \sin x$

- funkcija sinus poprima vrijednosti između -1 i 1
- stoga funkcija $f(x)$ poprima vrijednosti između $-a$ i a
- broj a zovemo amplituda



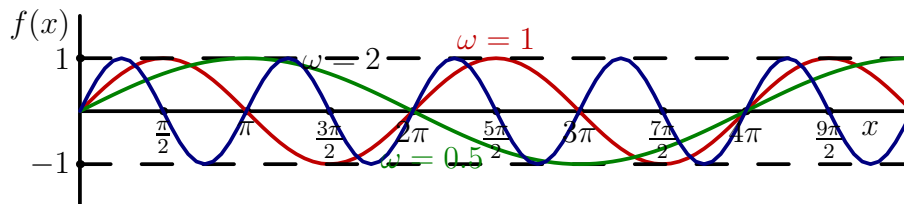
Slika 7: Graf funkcije $a \sin x$.

Funkcija oblika: $f(x) = \sin(\omega x)$

- period funkcije $\sin x$ iznosi 2π
- možemo izračunati period funkcije $f(x)$

$$\omega\tau = 2\pi \implies \tau = \frac{2\pi}{\omega} \quad (32)$$

- ako je $\omega > 1$ period se skraćuje u odnosu na funkciju $\sin x$, a ako je $\omega < 1$ period se produžuje



Slika 8: Funkcije sinus s različitim periodima.

Funkcija oblika: $f(x) = \sin(x + \phi)$

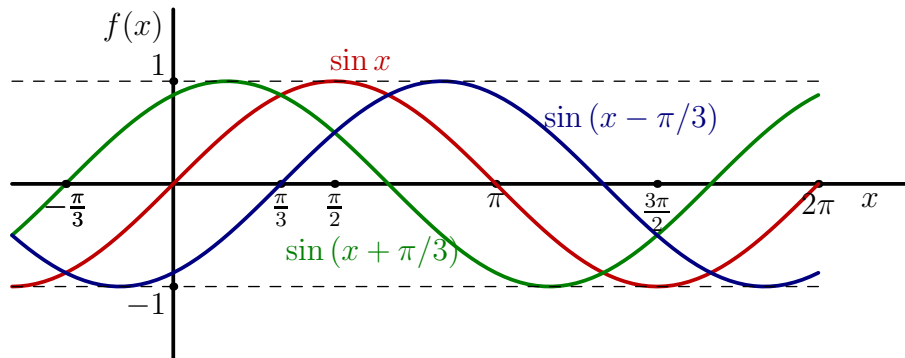
- nultočke funkcije $\sin x$

$$x_0 = (2k + 1) \frac{\pi}{2}, \quad k \in Z \quad (33)$$

- nultočke funkcije $\sin(x + \phi)$

$$x_0 + \phi = (2k + 1) \frac{\pi}{2}, \quad k \in Z \implies x_0 = (2k + 1) \frac{\pi}{2} - \phi \quad (34)$$

- graf funkcije $\sin(x + \phi)$ dobije se translacijom grafa funkcije $\sin x$ duž osi x za ϕ



Slika 9: Funkcije sinus s različitim početnim fazama ϕ .

3 Funkcije tangens i kotangens

- funkciju tangens definiramo kao omjer funkcija sinus i kosinus

$$\tan x = \frac{\sin x}{\cos x} \quad (35)$$

- tangens nije definiran u nul-točkama funkcije kosinus

$$x_0 = (2k + 1) \frac{\pi}{2}, \quad k \in Z \quad (36)$$

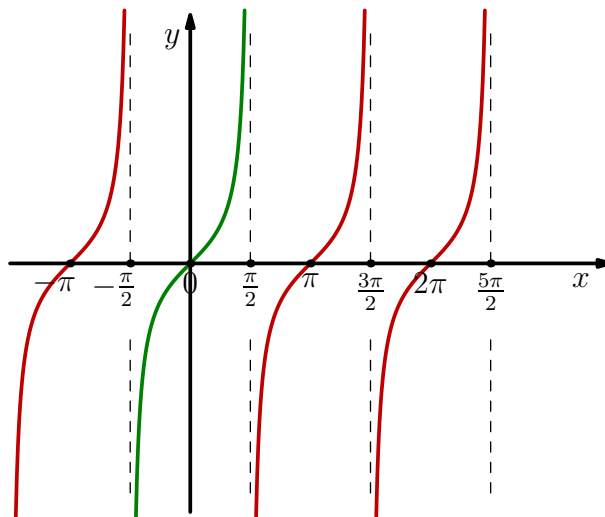
- tangens je periodička funkcija s periodom π

$$\tan(x + \pi) = \frac{\sin(x + \pi)}{\cos(x + \pi)} = \frac{-\sin x}{-\cos x} = \tan x \quad (37)$$

- tangens je neparna funkcija

$$\tan(-x) = \frac{\sin(-x)}{\cos(-x)} = \frac{-\sin x}{\cos x} = -\tan x \quad (38)$$

- graf funkcije tangens



Slika 10: Graf funkcije tangens.

- funkciju kotangens definiramo kao omjer funkcija kosinus i sinus

$$\cot x = \frac{\cos x}{\sin x} \quad (39)$$

- kotangens nije definiran u nul-točkama funkcije sinus

$$x_0 = k\pi, \quad k \in \mathbb{Z} \quad (40)$$

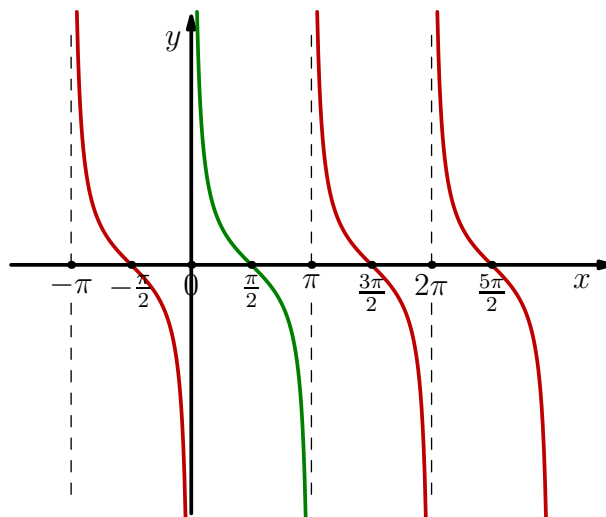
- kotangens je periodička funkcija s periodom π

$$\cot(x + \pi) = \frac{\cos(x + \pi)}{\sin(x + \pi)} = \frac{-\cos x}{-\sin x} = \cot x \quad (41)$$

- kotangens je neparna funkcija

$$\cot(-x) = \frac{\cos(-x)}{\sin(-x)} = \frac{\cos x}{-\sin x} = -\cot x \quad (42)$$

- graf funkcije kotangens



Slika 11: Graf funkcije kotangens.

4 Harmonijska gibanja

- harmonijska gibanja možemo opisati funkcijama oblika

$$f(t) = A \sin(\omega t + \phi) \quad (43)$$

- pritom koristimo sljedeće pojmove

- amplituda: A
- kružna frekvencija: ω
- početna faza: ϕ

- period gibanja dan je s

$$\tau = \frac{2\pi}{\omega} \quad (44)$$

- superpozicija harmonijskih gibanja iste kružne frekvencije ω ponovno je harmonijsko gibanje kružne frekvencije ω

$$\begin{aligned} f(t) &= A_1 \sin(\omega t + \phi_1) + A_2 \sin(\omega t + \phi_2) \\ &= A_1 \sin \omega t \cos \phi_1 + A_1 \cos \omega t \sin \phi_1 + A_2 \sin \omega t \cos \phi_2 + A_2 \cos \omega t \sin \phi_2 \\ &= (A_1 \cos \phi_1 + A_2 \cos \phi_2) \sin \omega t + (A_1 \sin \phi_1 + A_2 \sin \phi_2) \cos \omega t \end{aligned}$$

- koristimo oznake

$$B_1 \equiv A_1 \cos \phi_1 + A_2 \cos \phi_2 \quad \text{i} \quad B_2 \equiv A_1 \sin \phi_1 + A_2 \sin \phi_2 \quad (45)$$

$$\implies f(t) = B_1 \sin \omega t + B_2 \cos \omega t \quad (46)$$

- ako je bar jedan od brojeva B_1 i B_2 različit od nule možemo naći realne brojeve A i ϕ sa svojstvom

$$B_1 = A \sin \phi \quad \text{i} \quad B_2 = A \cos \phi \quad (47)$$

- funkcija $f(t)$ svodi se na

$$f(t) = A \sin \phi \cos \omega t + A \cos \phi \sin \omega t = A \sin (\omega t + \phi) \quad (48)$$

Primjer:

- prikažite u obliku $A \sin (\omega t + \phi)$ sumu funkcija

$$f(t) = 5 \sin (3t + \pi/6) + 3 \sin (3t - \pi/3) \quad (49)$$

- prvo iskoristimo adicione formule

$$\begin{aligned} \sin (3t + \pi/6) &= \sin 3t \cos (\pi/6) + \cos 3t \sin (\pi/6) \\ &= \frac{\sqrt{3}}{2} \sin 3t + \frac{1}{2} \cos 3t \end{aligned} \quad (50)$$

$$\begin{aligned} \sin (3t - \pi/3) &= \sin 3t \cos (\pi/3) - \cos 3t \sin (\pi/3) \\ &= \frac{1}{2} \sin 3t - \frac{\sqrt{3}}{2} \cos 3t \end{aligned} \quad (51)$$

- sada računamo zbroj (49)

$$\begin{aligned} f(t) &= 5 \frac{\sqrt{3}}{2} \sin 3t + \frac{5}{2} \cos 3t + \frac{3}{2} \sin 3t - 3 \frac{\sqrt{3}}{2} \cos 3t \\ &= \frac{1}{2} (5\sqrt{3} + 3) \sin 3t + \frac{1}{2} (5 - 3\sqrt{3}) \cos 3t \end{aligned} \quad (52)$$

- tražimo amplitudu A i fazu ϕ tako da vrijedi

$$f(t) = A \sin (3t + \phi) = A \sin 3t \cos \phi + A \cos 3t \sin \phi \quad (53)$$

- usporedba s izrazom (52)

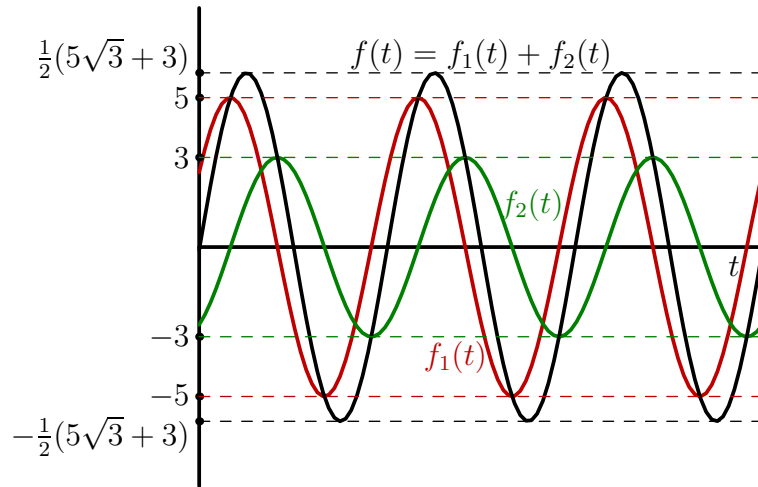
$$A \cos \phi = \frac{1}{2} (5\sqrt{3} + 3) \quad \text{i} \quad A \sin \phi = \frac{1}{2} (5 - 3\sqrt{3}) \quad (54)$$

- podijelimo $A \sin \phi$ s $A \cos \phi$

$$\implies \tan \phi = \frac{5 - 3\sqrt{3}}{5\sqrt{3} + 3} = 0.016822 \implies \cos \phi \approx 1 \quad (55)$$

- amplituda

$$A = \frac{1}{2} (5\sqrt{3} + 3) \quad (56)$$



Slika 12: Zbroj funkcija $f_1(t) = 5 \sin(3t + \pi/6)$ i $f_2(t) = 3 \sin(3t - \pi/3)$.

- često susrećemo i superpoziciju harmonijskih funkcija različitih frekvencija
- promotrimo najjednostavniji primjer superpozicije dva titranja jednakih amplituda i početnih faza $\phi_1 = \phi_2 = 0$

$$f(t) = f_1(t) + f_2(t) = A \sin \omega_1 t + A \sin \omega_2 t \quad (57)$$

- iskoristimo formulu za zbroj sinusa (31)

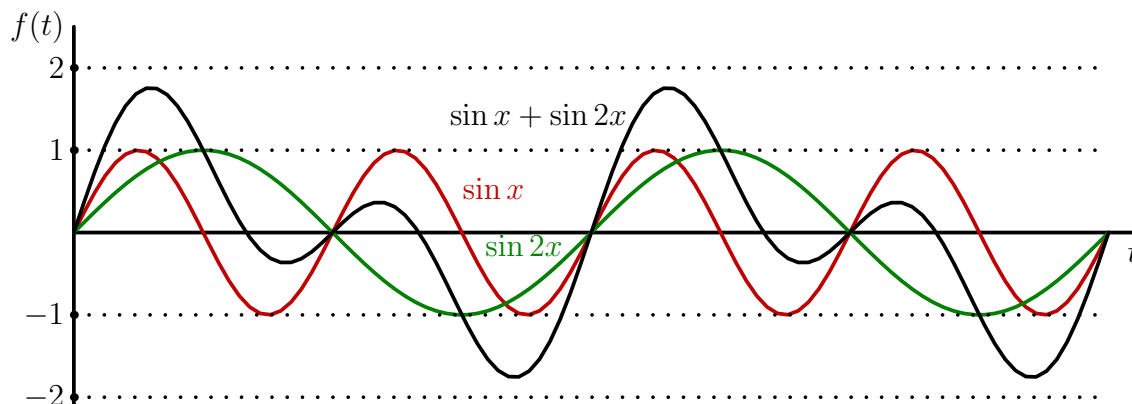
$$f(t) = 2A \sin\left(\frac{\omega_1 + \omega_2}{2}t\right) \cos\left(\frac{\omega_1 - \omega_2}{2}t\right) \quad (58)$$

Primjer: superpozicija funkcija $\sin x$ i $\sin 2x$

- primjenimo formulu za zbroj sinusa (31)

$$\sin 2x + \sin x = 2 \sin \frac{3x}{2} \cos \frac{x}{2} \quad (59)$$

- dobivena funkcija ima period 2π



Slika 13: Zbroj funkcija $f(t) = \sin t + 2 \sin 2t$

Primjer: udari

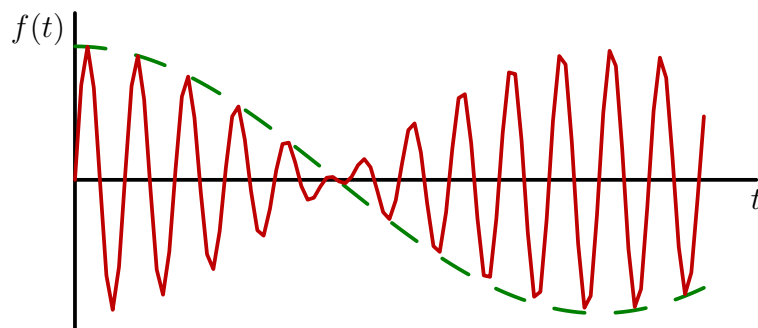
- posebno je zanimljiv primjer kada su frekvencije ω_1 i ω_2 približno jednake

$$\omega_1 \approx \omega_2 \implies \omega_1 \equiv \omega \quad \text{i} \quad \omega_2 \equiv \omega + \epsilon \quad (60)$$

- superpozicija takve dvije funkcije

$$f(t) = 2A \sin(\omega t) \cos\left(\frac{\epsilon}{2}t\right) \quad (61)$$

- radi se o titranju frekvencije ω čija se amplituda sporo mijenja
- promjenu (modulaciju) amplitude daje faktor $\cos\left(\frac{\epsilon}{2}t\right)$
- superpoziciju titranja bliskih frekvencija zovemo udari
- na slici je superpozicija dva sinusa bliskih frkvencija (crvena linija) i linija koja prikazuje promjenu amplitude (zeleno linija)



Slika 14: Grafički prikaz udara.

5 Ciklometrijske funkcije

- ciklometrijske funkcije su inverzne funkcije trigonometrijskih funkcija

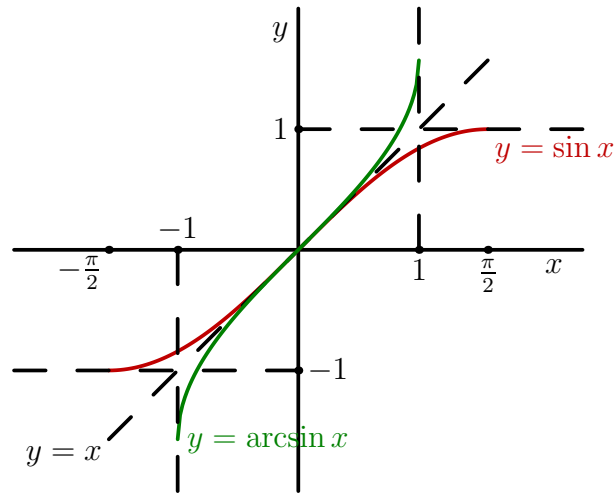
5.1 Funkcija $\arcsin(x)$

- funkcija $\sin x$ preslikava interval $[-\pi/2, \pi/2]$ na interval $[-1, 1]$
- definiramo inverznu funkciju $\arcsin x$ za koju vrijedi

$$\arcsin(\sin x) = x \quad \forall x \in [-\pi/2, \pi/2] \quad (62)$$

$$\sin(\arcsin x) = x \quad \forall x \in [-1, 1] \quad (63)$$

- bitno je uočiti da je funkcija $\sin x$ definirana za svaki $x \in \mathbb{R}$, dok je funkcija $\arcsin x$ definirana samo na intervalu $[-1, 1]$ jer $\sin x$ poprima vrijednosti samo u tom intervalu
- graf funkcije \arcsin dobijemo zrcaljenjem grafa funkcije \sin s obzirom na pravac $y = x$



Slika 15: Graf funkcije arcsin.

x	0	$\pi/6$	$\pi/4$	$\pi/3$	$\pi/2$
$\sin x$	0	$1/2$	$\sqrt{2}/2$	$\sqrt{3}/2$	1
$\arcsin x$	0	$\pi/6$	$\pi/4$	$\pi/3$	$\pi/2$

Tablica 2: Nekoliko vrijednosti funkcija sinus i arcsin

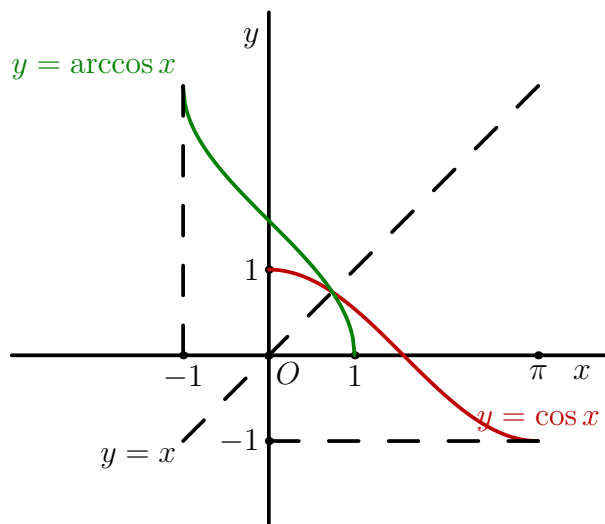
5.2 Funkcija arccos(x)

- funkcija $\cos x$ također preslikava interval $[-\pi/2, \pi/2]$ na interval $[-1, 1]$
- opet definiramo inverznu funkciju $\arccos x$ za koju vrijedi

$$\arccos(\cos x) = x \quad \forall x \in [-\pi/2, \pi/2] \quad (64)$$

$$\cos(\arccos x) = x \quad \forall x \in [-1, 1] \quad (65)$$

- kao i u prethodnom slučaju, funkcija $\cos x$ definirana je za svaki $x \in \mathbb{R}$, dok je funkcija $\arccos x$ definirana samo na intervalu $[-1, 1]$
- graf funkcije \arccos dobijemo zrcaljenjem grafa funkcije \cos s obzirom na pravac $y = x$



Slika 16: Graf funkcije arccos.

x	0	$\pi/6$	$\pi/4$	$\pi/3$	$\pi/2$
$\cos x$	1	$\sqrt{3}/2$	$\sqrt{2}/2$	1/2	0
$\arccos x$	0	$\pi/6$	$\pi/4$	$\pi/3$	$\pi/2$

Tablica 3: Nekoliko vrijednosti funkcija cos i arccos

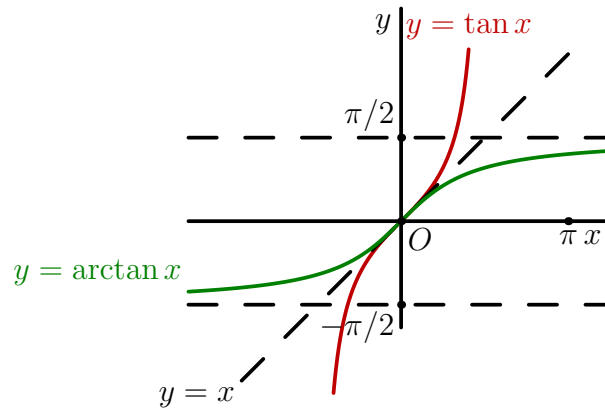
5.3 Funkcija arctan(x)

- funkcija $\tan x$ preslikava interval $\langle -\pi/2, \pi/2 \rangle$ na interval $\langle -\infty, \infty \rangle$
- definiramo inverznu funkciju $\arctan x$ za koju vrijedi

$$\arctan(\tan x) = x \quad \forall x \in \langle -\pi/2, \pi/2 \rangle \quad (66)$$

$$\tan(\arctan x) = x \quad \forall x \in \langle -\infty, \infty \rangle \quad (67)$$

- za razliku od funkcija $\cos x$ i $\sin x$ funkcija $\tan x$ nije ograničena pa je funkcija $\arctan x$ definirana na cijelom skupu realnih brojeva
- graf funkcije \arctan dobijemo zrcaljenjem grafa funkcije \tan s obzirom na pravac $y = x$



Slika 17: Graf funkcije arctan.

- na isti način bi definirali i funkciju arccot

6 Zadaci za vježbu

Zadatak 1

Dokažite sljedeće relacije

$$(\sin x + \cos x)(\cos x - \sin x) = \cos 2x$$

$$(\sin 2x - \cos 3x) \cos 5x = \frac{1}{2} (\sin 7x - \sin 3x - \cos 2x - \cos 8x)$$

$$(\sin x + \cos x)(\sin 2x + \cos 2x) = \sin 3x + \cos x$$

Zadatak 2

Dokažite da za $x \in [0, \pi/2]$ vrijede sljedeće relacije

$$\sin x = \sqrt{\frac{1 - \cos 2x}{2}} \quad \text{i} \quad \cos x = \sqrt{\frac{1 + \cos 2x}{2}}$$

Zadatak 3

Dokažite da za $x \notin \{\pi/2 + m\pi, m \in \mathbb{Z}\}$ vrijedi sljedeća relacija

$$\tan(x - y) = \frac{\tan x - \tan y}{1 + \tan x \tan y}$$